

Chapter- 17

ନେଉଳର ଘର ତୋଳା

STUDY NOTES

At a Glance:

- ‘ଏ’ ଓ ‘ଐ’ କାର ମାତ୍ରା ଚିହ୍ନଟ କରି ପଢ଼ିବା, ଲେଖିବା ।
- ଦୁଇଟି ସଂଖ୍ୟାର ଯୋଗଫଳ ୧୮ ମଧ୍ୟରେ ହେବା ଭଳି ଯୋଗ କରିବା ।
- କେଉଁଥିରୁ କ’ଣ ତିଆରି ହୁଏ, ଜାଣିବା ଦକ୍ଷତା ବିକଶିତ ହେବା ।

- ଏକଲା ଗଢ଼େଇ

ଗାତଟିକୁ ଅଙ୍ଗ ଭଙ୍ଗୀ ପ୍ରଦର୍ଶନ ପୂର୍ବକ ଆବୃତ୍ତି କରିବେ । ଆବୃତ୍ତି କଲାବେଳେ ଧାଡ଼ିରୁ ଶବ୍ଦ, ଶବ୍ଦରୁ ଅକ୍ଷର ଚିହ୍ନଟି ଉପରେ ଗୁରୁତ୍ୱ ଦେବା ।

- ‘ଏ’ କାର ମାତ୍ରା ଚିହ୍ନଟି ଓ ଶବ୍ଦ ଗଠନ କରିବା ।

ଯଥା:- ଏସବୁ, ଏପଟ, ଏପରି

- କେଉଁଥିରେ କ’ଣ ତିଆରି ହୁଏ ସେ ବିଷୟରେ ଆଲୋଚନା କରିବା ।

ଯଥା: ମାଟି - ମାଠିଆ, ସୁନା - ହାର, କାଠ - ଚେୟାର

- ଦୁଇଟି ସଂଖ୍ୟାର ଯୋଗଫଳ ଶିଖିବା ଯାହା ୧୮ ମଧ୍ୟରେ ରହିବ ।

$$୧୨ + ୩ = ୧୫, \quad ୯ + ୯ = ୧୮, \quad ୮ + ୭ = ୧୫,$$

$$୧୦ + ୭ = ୧୭, \quad ୮ + ୪ = ୧୨$$

Understanding:

୧. ଛବି ଦେଖି ପଢ଼ିବା ।



ନେଉଳ



ବିଲେଇ



ଶୈଉଳ



ଠେକୁଆ



ଚଢ଼େଇ





ବଢ଼େଇ

୨. ଛବି ଦେଖି ଖାଲି ଘରେ ଛାଡ଼ି ଦିଆଯାଇଥିବା ଅକ୍ଷର ଓ ମାତ୍ରାକୁ ଲେଖିବା ।

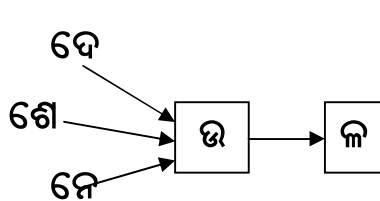
କ) **୧** = _____ କ **୧୧** = _____ ଗାର

ଖ)  = ବି _____ ଈ  = ବ _____ ଈ

ଗ)  = ଚ _____ ଈ  = ଘୋ _____ ଆ

Spelling:

୩. ଅକ୍ଷର ଯୋଡ଼ି ଲେଖ ।



୪. 'ଏ' ଅକ୍ଷରକୁ ନେଇ ପଢ଼ିବା ଓ ଶବ୍ଦ ଲେଖିବା ।

୫. ସମ୍ପର୍କ ଥିବା ଶବ୍ଦ ସହିତ ଯୋଡ଼ିବା ଓ ଏହାପରେ ଶବ୍ଦକୁ ନେଇ ବାକ୍ୟଟିଏ କହିବା ।

୬. ଯୋଗ କରି ଯୋଗଫଳ ଲେଖ ।

- କ) ୧୨ + ୩ = _____
- ଖ) ୮ + ୭ = _____
- ଗ) ୮ + ୪ = _____
- ଘ) ୧୦ + ୭ = _____
- ଙ) ୯ + ୯ = _____

