



WORKSHEET

Chapter-20 ମାତ୍ରିକା ହାଜା


୧. ଚିତ୍ର ଦେଖି ନାମ ଲେଖ ।




ମୂଷା




ମାୟୁର



ତୁରୀ



ମୂଳା



ଧୂପଧାନି

୨. ଶୂନ୍ୟସ୍ଥାନ ପୂରଣ କର ।

(କ) ୭ଟି ଫୁଲ + ୩ଟି ଫୁଲ = ୧୦ ଫୁଲ

(ଖ) ୮ଟି ଖେଳ + ୩ଟି ଖେଳ = ୧୧ ଖେଳ

(ଗ) ୩ଟି ଗଜୁଳି + ୫ଟି ଗଜୁଳି = ୮ଟି ଗଜୁଳି

(ଘ) ୧୦ଟି ଛଟା + ୫ଟି ଛଟା = ୧୫ ଛଟା

(ଙ) ୮ଟି ଠଳ + ୯ଟି ଠଳ = ୧୭ ଠଳ

୩. ଗଣ ସମ୍ବଳକୁ ଲେଖ ।

(କ) ଆୟ = ଆୟ ରୁଚିକା

(ଖ) ନିତିଆ = ନିତିଆ ରୁଚିକା

(ଗ) ବିଲ୍‌କୁ = ବିଲ୍‌ରୁ ପାଟନ

(ଘ) ଗଢେଇ = ଗଢେଇର ପାଟନ

(ଙ) ଦୁଗା - ଦୁଗା ରୁଚିକା

୪. ଲିଖିତ ପାଠ୍ୟ କାର୍ଯ୍ୟକ୍ରମକୁ ଯୋଗାଯୋଗିତ ଭାବେ
ସମ୍ବଳରେ ଧ୍ୟାନ ଦେଇ ଲେଖ ।

ଉତ୍ତର

ଉତ୍ତରରେ ମାଆ ଶୁଦ୍ଧିତା ଦାବର
କାର୍ଯ୍ୟକ୍ରମ ।

ଉତ୍ତର ଦିନ ଦିନ ପାଠ୍ୟ କାର୍ଯ୍ୟକ୍ରମ ।

ଉତ୍ତରରେ ନିଆ ମାଟ୍ରିକ୍ ଯୋଗିତ କାର୍ଯ୍ୟକ୍ରମ ।

ଉତ୍ତରରେ ପ୍ରମାଣ ସୂଚନା ଯୋଗାଯୋଗ
କାର୍ଯ୍ୟକ୍ରମ ।